

Nom :


Date :/...../ 20....




Évaluation de mesure : **Le périmètre**

Compétences évaluées	Savoir calculer le périmètre d'un carré et d'un rectangle.	
	Savoir calculer le périmètre d'un polygone quelconque.	
	Tracer un carré ou un rectangle dont on connaît le périmètre.	

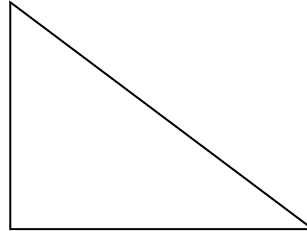
1 Mesure et trouve le périmètre des figures ci-dessous.



P =

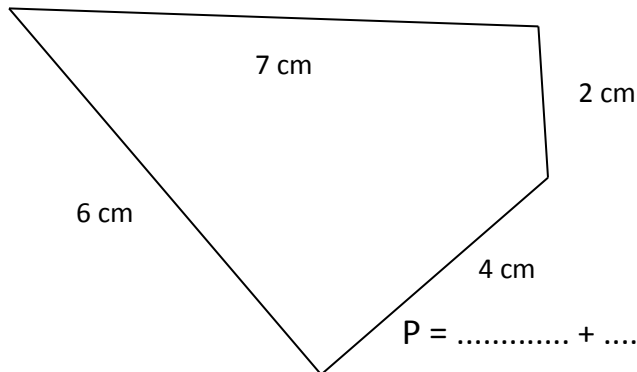


P =



P =

2 Calcule le périmètre du polygone dessiné.



P = + + + = cm

3 Trace un carré dont le périmètre sera de 16 cm et un rectangle dont le périmètre sera de 14 cm.

