

Prénom : _____

Date : _____

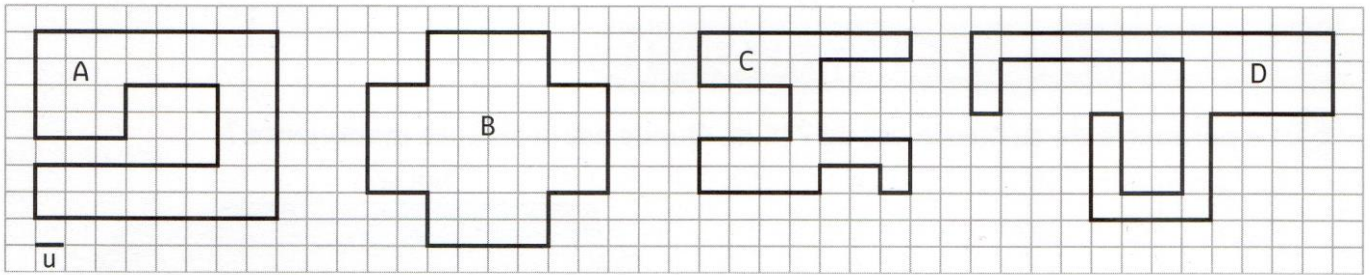


Grandeurs et mesures : Le périmètre
 Comparer et calculer des périmètres de polygones

CM2

Fiche d'exercices n°3
 Leçon 2

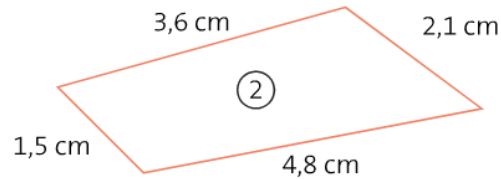
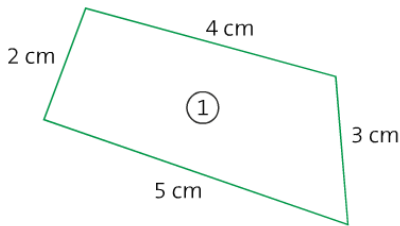
➔ **Exercice 1 :** Calcule le périmètre de chaque polygone à l'aide de l'unité **u**. Puis range ces périmètres dans l'ordre croissant.



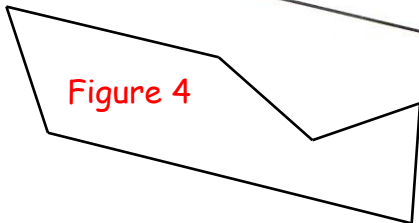
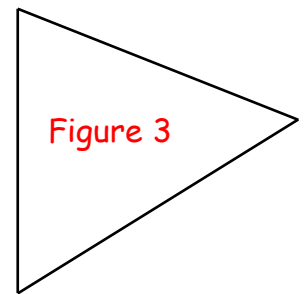
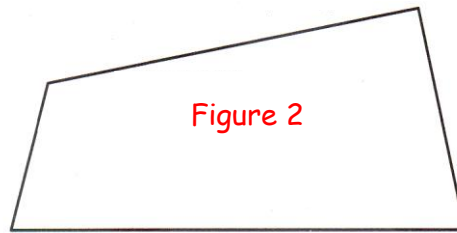
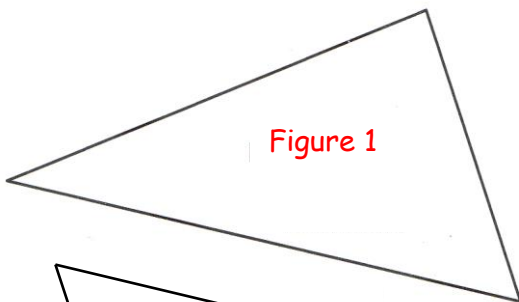
P (Figure A) = _____ P (Figure B) = _____ P (Figure C) = _____ P (Figure D) = _____

→ _____

➔ **Exercice 2 :** Calcule le périmètre de ces figures.



➔ **Exercice 3 :** Mesure et calcule le périmètre de ces figures.



➔ **Exercice 4 :** Trouve la mesure manquante pour chaque figure.

